

## MODALA SKALOR

### TIPS!

*När Du ska lösa uppgiften på nästa sida kan Du:*

- *Se efter hur många förtecken skalan har, fasta eller tillfälliga, då ser Du vilken tonart skalan tillhör. Du måste alltså kunna alla tonarters förtecken.*
- *Om Du vet tonarten ser Du efter vilken ton skalan börjar på. Vilken plats har den tonen i tonartens första skala? Vi säger att Du kommer fram till siffran 3. Vad heter skalan som börjar på tredje tonen i en vanlig durskala (tonart).  
Svar: frygisk skala.*
- *räkna hela, (T) och halva, (S) tonsteg mellan varje ton. Då måste Du känna till varje skalas mönster av hela och halva tonsteg.*


*Skriv ut skalans namn, funktion i tonarten och vilken durtonart skalan tillhör.*

## MODALA SKALOR

1)



2)



3)



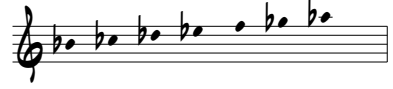
4)



5)



6)




7)



8)




9)



10)



11)



12)



13)



14)




15)




16)




17)




18)



19)



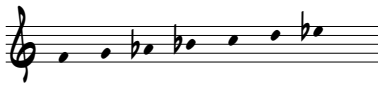
20)




21)



22)



23)



24)



## FACIT MS 10

	<i>Skala</i>	<i>Funktion</i>	<i>Tonart</i>
1)	<i>C dorisk</i>	<i>IIm7</i>	<i>Bb dur</i>
2)	<i>Eb aeolisk</i>	<i>VIIm7</i>	<i>Gb dur</i>
3)	<i>A# lokrisk</i>	<i>VIIIm7(b5)</i>	<i>B dur</i>
4)	<i>Bb lydisk</i>	<i>IVMaj7</i>	<i>F dur</i>
5)	<i>E dorisk</i>	<i>IIm7</i>	<i>D dur</i>
6)	<i>Bb frygisk</i>	<i>IIIIm7</i>	<i>Gb dur</i>
7)	<i>B aeolisk</i>	<i>VIIm7</i>	<i>D dur</i>
8)	<i>A frygisk</i>	<i>IIIIm7</i>	<i>F dur</i>
9)	<i>D# lokrisk</i>	<i>VIIIm7(b5)</i>	<i>E dur</i>
10)	<i>D lydisk</i>	<i>IVMaj7</i>	<i>A dur</i>
11)	<i>Db mixolydisk</i>	<i>V7</i>	<i>Gb dur</i>
12)	<i>Bb aeolisk</i>	<i>VIIm7</i>	<i>Db dur</i>
13)	<i>B frygisk</i>	<i>IIIIm7</i>	<i>G dur</i>
14)	<i>D# aeolisk</i>	<i>VIIm7</i>	<i>F# dur</i>
15)	<i>C# lokrisk</i>	<i>VIIIm7(b5)</i>	<i>D dur</i>
16)	<i>E mixolydisk</i>	<i>V7</i>	<i>A dur</i>
17)	<i>Eb lydisk</i>	<i>IVMaj7</i>	<i>Bb dur</i>
18)	<i>E lokrisk</i>	<i>VIIIm7(b5)</i>	<i>F dur</i>
19)	<i>G aeolisk</i>	<i>VIIm7</i>	<i>Bb dur</i>
20)	<i>C frygisk</i>	<i>IIIIm7</i>	<i>Ab dur</i>
21)	<i>Bb dorisk</i>	<i>IIm7</i>	<i>Ab dur</i>
22)	<i>F dorisk</i>	<i>IIm7</i>	<i>Eb dur</i>
23)	<i>C# frygisk</i>	<i>IIIIm7</i>	<i>A dur</i>
24)	<i>G dorisk</i>	<i>IIm7</i>	<i>F dur</i>